

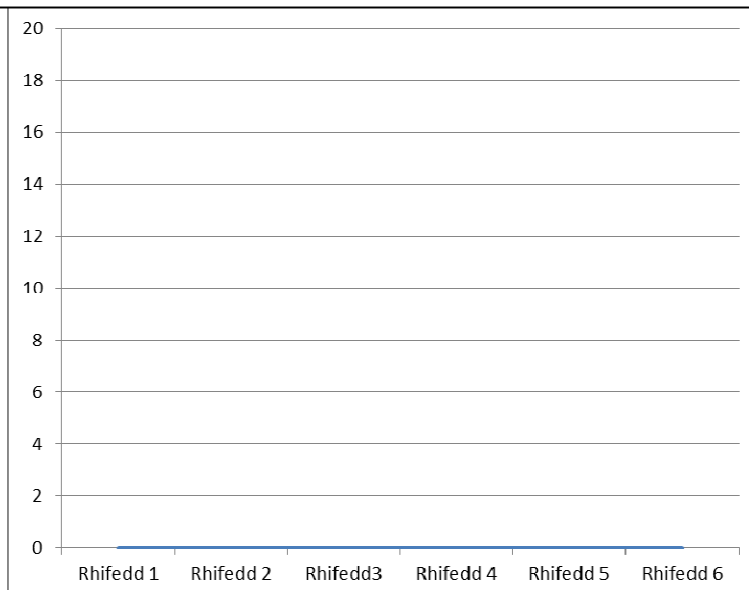
Tabl Cofnodi

Disgwylir i chi llenwi mewn yr holl dabl trwy'r haf i geisio dod o hyd i gyfansymiau gwahanol ar gyfer pob taflen. Ar ôl casglu'r data, plotiwch y canlyniadau ar y graff a lluniwch graff bar.

	Rhifedd 1	Rhifedd 2	Rhifedd 3	Rhifedd 4	Rhifedd 5	Rhifedd 6
Adio/Addition						
Lluosi/Multiplication						
Tynnu/Subtraction						
Rhannu/Division						
Ffracsiwn/Fraction						
Ffrac/Canran o rif Frac/Percent of num						
Amser/ Time						
Amser (ffeithiau)/ Time facts						
Algebra – Symleiddio/Simplify						
Algebra – Amnewid/ substitute						
Canran/Percentages						
Cymesured/Symmetry						
Pwerau/Powers						
Onglau/Angles						
Cyfartaleddau/Averages						
Unedau/Units						
Tebygolrwydd/Probability						
Siap/Shape						
Ffactorau/Factors						
Math o rif/ Types of number						
Cyfanswm/ Total						


Graff bar i ddangos canlyniadau taflenni rhifedd 1-6

Cyfanswm




Taflen


Rhifedd 1**Dyddiad** _____

1 $36 + 57$	11 Beth yw 15% o 62?	
2 Beth yw lluoswm 28 a 4	12 Faint o linellau cymesuredd sydd gan sgwâr?	
3 Tynnwch 68 o 97	13 Beth yw 7 wedi sgwario?	
4 Rhannwch 52 gyda 4	14 Faint o raddau sydd mewn cylchdro cyfan?	
5 Lliwiwch $\frac{1}{4}$ o'r diagram 	15 Beth yw'r modd? 1, 3, 4, 1, 3, 1, 5, 2, 1, 1, 3,	
6 Beth yw $\frac{5}{6}$ o 18?	16 Faint o mm sydd mewn 5cm?	
7 Rydw i'n cychwyn taith am 19.47, mae'r daith yn cymryd 2 awr a 18 munud. Pa amser ydw i'n cyrraedd?	17 Beth yw'r tebygolrwydd o gael 6 ar ddis teg?	
8 Faint o ddiwrnodau sydd ym mis Mai?	18 Faint o ochrau sydd gan bentagon?	
9 Symleiddiwch $a + a + a + a + a$	19 Nodwch holl ffactorau 24?	
10 Os $y = -3$, Beth yw $y + 4$	20 Nodwch y 3 lluosrif cyntaf 5	
Marc	Ymdrech	Sylwadau


Rhifedd 2**Dyddiad** _____

1 Adiwch 29 a 84	11 Beth yw 72% fel degolyn?	
2 Lluoswch 37 gyda 15	12 Faint o linellau cymesuredd sydd gan betryal?	
3 Tynnwch 23 o 86	13 Beth yw 3 wedi ciwbio?	
4 Rhannwch 57 gyda 3	14 Faint o raddau sydd mewn hanner cylch?	
5 Tywyllwch $\frac{1}{4}$ o'r diagram 	15 Beth yw canolrif y data isod? 4, 9, 8, 9, 9, 7, 8, 8, 8, 8, 4	
6 Beth yw $\frac{3}{8}$ o 32?	16 Faint o cm sydd mewn 4m?	
7 Rydw i'n cychwyn taith am 07.22, mae'r daith yn cymryd 1 awr a 14 munud. Pa amser ydw i'n cyrraedd?	17 Beth yw'r tebygolrwydd o lanio ar rif sgwâr wrth daflu dis teg?	
8 Faint o ddiwrnodau sydd mewn blwyddyn arferol?	18 Faint o ochrau sydd gan hecsagon?	
9 Symleiddiwch $m + m + m + m$	19 Beth yw holl ffactorau 18?	
10 Os yw $y = -6$ beth yw $y - 6$	20 Nodwch 3 lluosrif cyntaf 8	
Marc	Ymdrech	Sylwadau


Rhifedd 3**Dyddiad** _____

1 Adiwch 284 a 76	11 Beth 92% fel degolyn?	
2 Lluoswch 71 gyda 31	12 Sawl llinell cymesuredd sydd gan farcud?	
3 Tynnwch 32 o 197	13 Beth yw 5^3 ?	
4 Rhannwch 91 gyda 7	14 Sawl gradd sydd mewn ongl sgwâr?	
5 Tywyllwch $\frac{3}{4}$ o'r diagram 	15 Beth yw cymedr y data isod 50, 10, 50, 10, 10, 20, 50, 10	
6 Beth yw $\frac{1}{5}$ o 60?	16 Sawl metr sydd mewn 2km?	
7 Rydw i'n cychwyn taith am 13.45, mae'r daith yn cymryd 2 awr a 34 munud. Pa amser ydw i'n cyrraedd?	17 Beth yw'r tebygolrwydd o lanio ar rif cysefin wrth daflu dis teg?	
8 Faint o ddiwrnodau sydd mewn blwyddyn naid?	18 Sawl ochr sydd gan drapesiwm?	
9 Symleiddiwch $3a + 4a$	19 Nodwch holl ffactorau 25?	
10 Os yw $y=8$, Beth yw is $y - 11$	20 Nodwch 5 lluosrif cyntaf 12	
Marc	Ymdrech	Sylwadau

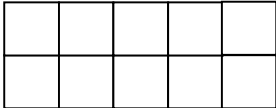
Rhifedd 4**Dyddiad** _____

1 Adiwch 875 a 142	11 Beth yw 60% o 540	
2 Lluoswch 56 a 28	12 Sawl linell cymesuredd sydd gan baralelogram?	
3 Tynnwch 178 o 785	13 Beth yw 9^2 ?	
4 Rhannwch 225 gyda 15	14 Os yw ongl yn lem, beth mae hwn yn golygu?	
5 Tywyllwch $\frac{2}{5}$ o'r diagram 	15 Beth yw amrediad y data isod 1, 3, 4, 1, 3, 1, 5, 2, 1, 1, 3,	
6 Beth $\frac{2}{5}$ o 80?	16 Sawl cm sydd mewn 65mm?	
7 Rydw i'n cychwyn taith am 05.28, mae'r daith yn gorffen am 06.57. Faint o amser wnaeth y daith y cymryd?	17 Beth yw'r tebygolrwydd o lanio ar 5 neu'n fwy ar ddis teg?	
8 Sawl flwyddyn sydd mewn canrif?	18 Lluniwch rombws gyda phren mesur.	
9 Symleiddiwch $7a + 4a$	19 Beth yw ffactorau 50?	
10 Os yw $a=6$ beth yw $7a$	20 Rhowch y 6ed lluosrif o 7	
Marc	Ymdrech	Sylwadau

Rhifedd 5**Dyddiad** _____

1 Adiwch 9.867 a 5.53	11 Beth yw 7% fel degolyn?	
2 76 x 38	12 Sawl llinell cymesuredd sydd gan bentagon rheolaidd?	
3 Tynnwch 205 o 304	13 Beth yw 12^2 ?	
4 Rhannwch 744 a 12	14 O wybod bod ongl yn aflem, beth mae hwn yn golygu?	
5 Tywyllwch 1/10 o'r diagram 	15 Beth yw cymedr y data isod? 15, 25, 10, 80, 35, 45, 50	
6 Beth yw $2/7$ o 49?	16 Sawl metr sydd mewn 750cm?	
7 Rydw i'n cychwyn taith am 06.17, mae'r daith yn gorffen am 08.53. Faint o amser wnaeth y daith y cymryd?	17 Beth yw'r tebygolrwydd o lanio ar 3 neu'n llai ar ddis?	
8 Sawl diwrnod sydd mewn Mai a Mehefin?	18 Lluniwch driongl isosgeles gyda phren mesur.	
9 Symleiddiwch $10a + 3a - 4a$	19 Beth yw ffactorau 120 ?	
10 Os yw $y=9$, beth yw $y \div 0.5$	20 Beth yw'r 5ed lluosrif o 8	
Marc	Ymdrech	Sylwadau

Rhifedd 6**Dyddiad** _____

1 Adiwch 5.09 a 6.1 a 12.97	11 Beth yw 8.1% fel degolyn?
2 Lluoswch 653 a 16	12 How many lines of symmetry does an equilateral triangle have?
3 Tynnwch 123 o 1200	13 Cyfrifwch 11^2 ?
4 Rhannwch $646 \div 19$	14 Os yw ongl yn atblyg, beth mae hwn yn golygu?
5 Tywyllwch $2/5$ o'r diagram 	15 Beth yw modd y data? 4, 9, 8, 9, 9, 7, 8, 8, 8, 8, 4
6 Beth yw 32% o 640?	16 Sawl km sydd mewn 1400m?
7 Rydw i'n cychwyn taith am 17.57, mae'r daith yn gorffen am 21.04. Faint o amser wnaeth y daith y cymryd?	17 Beth yw'r tebygolrwydd na chaiff 6 wrth daflu dis teg
8 Sawl awr sydd mewn tridiau?	18 Lluniwch octagon afreolaidd gyda phren mesur?
9 Symleiddiwch $a \times a$	19 Rhestrwch holl ffactorau 36?
10 Os yw $m=3$ a $n=2$, Beth yw mn ?	20 Nodwch 3 lluosrif cyntaf 16
Marc	Ymdrech
Sylwadau	

